



केन्द्रीय रिजर्व पुलिस बल CENTRAL RESERVE POLICE FORCE

Test Date	22/02/2023
Test Time	04:00 PM - 05:30 PM
Subject	Head Constable Ministerial

Section : Hindi Language

Q.1 निम्नलिखित में से किस वाक्य में परिमाणवाचक क्रियाविशेषण है?

- Ans
- A. सभी को यथेष्ट दक्षिणा दी गयी।
 - B. उसने यथासंभव मेरी मदद की।
 - C. यह अवश्य ही मेरा पर्स है।
 - D. आज तुम अचानक कैसे आये?

Question ID : 630680173112

Status : Answered

Chosen Option : B

Q.2 निम्नलिखित में से शुद्ध पदक्रम वाले वाक्य की पहचान करें।

- Ans
- A. मैंने आज बाज़ार में छोले खाए और चाट, मिठाई।
 - B. मैंने आज बाज़ार में चाट और छोले, मिठाई खाए।
 - C. मैंने आज बाज़ार में छोले और चाट, मिठाई खाए।
 - D. मैंने आज बाज़ार में चाट, मिठाई और छोले खाए।

Question ID : 630680173072

Status : Answered

Chosen Option : D

Q.3 निम्नलिखित में से कौन सा शब्द 'सूर्य' का पर्यायवाची नहीं है?

- Ans
- A. सविता
 - B. बंकट
 - C. मिहिर
 - D. मार्लड

Question ID : 630680173046

Status : Answered

Chosen Option : A

Q.4 निम्नलिखित में से अपूर्ण भूत काल के वाक्य का चयन कीजिए:

- Ans A. सुधा कल फुटबाल खेल रही थी।
 B. कल तुम यहाँ आये थे।
 C. मैंने खाना खा लिया है।
 D. तुम बाज़ार जाते तो घर का सभी सामान आ जाता।

Question ID : 630680173110
Status : Answered
Chosen Option : A

Q.5 निम्नलिखित वाक्य-खंड को एक उपयुक्त शब्द से बदलें-
'जो मूल से सम्बन्ध रखता हो'

- Ans A. मुर्षुष
 B. मौखिक
 C. मौलिक
 D. मृणाल

Question ID : 630680173099
Status : Answered
Chosen Option : C

Q.6 निम्नलिखित में से किस मुहावरे का अर्थ 'छिपी बात प्रकट करना' है?

- Ans A. टाट उलटना
 B. गूलर फोड़ कर जीव उड़ाना
 C. गुल कतरना
 D. घटती के पहर चढ़ना

Question ID : 630680173061
Status : Answered
Chosen Option : B

Q.7 'राजभाषा हिन्दी और ___ देवनागरी है।'
रिक्त स्थान की पूर्ति के लिए उचित शब्द का चयन करें:

- Ans A. लिखावट
 B. लिपि
 C. बोली
 D. भाषा

Question ID : 630680173076
Status : Answered
Chosen Option : B

Q.8 'यहाँ बाघ और बकरी _____।' रिक्त स्थान की पूर्ति के लिए निम्न में से कौन सा वाक्य-खंड शुद्ध है?

- Ans A. एक घाट का पानी पीते हैं
 B. पानी एक घाट का पीते हैं
 C. एक घाट का पानी पीती हैं
 D. पानी पीती हैं एक घाट का

Question ID : 630680173094
Status : Answered
Chosen Option : A

Q.9 'जो व्यक्ति संतुष्ट जीवन जीना चाहते हैं, उन्हें किसी दूसरे की संतुष्टि से _____ नहीं करनी चाहिए।' उचित शब्द चुनकर वाक्य में रिक्त स्थान की पूर्ति करें।

- Ans A. घृणा
 B. अतृप्ति
 C. संताप
 D. ईर्ष्या

Question ID : 630680173082
Status : Answered
Chosen Option : A

Q.10 निम्नलिखित शब्दों में से 'स्पृहा' शब्द के विलोमार्थी का चयन करें:

- Ans A. सहयोग
 B. नारकीय
 C. चंचलता
 D. निष्कामना

Question ID : 630680173048
Status : Answered
Chosen Option : A

Q.11 'उसकी अलौकिक योग्यता के कारण सभी लोग उसे जलन देते हैं।' उचित विकल्प चुनकर वाक्य में रेखांकित शब्द को प्रतिस्थापित करें।

- Ans A. शिष्टाचार
 B. तपन
 C. ज्ञान
 D. मान्यता

Question ID : 630680173083
Status : Answered
Chosen Option : A

Q.12 निम्नलिखित वाक्य-खण्डों को सही क्रम में स्थापित कीजिए-
-मनुष्य के कर्म
-भावी घटनाओं के लिए जिम्मेदार होते हैं।

- Ans
- A. भावी घटनाओं के लिए जिम्मेदार होते हैं मनुष्य के कर्म।
 - B. मनुष्य के कर्म जिम्मेदार होते हैं भावी घटनाओं के लिए।
 - C. मनुष्य के कर्म भावी घटनाओं के लिए जिम्मेदार होते हैं।
 - D. जिम्मेदार होते हैं भावी घटनाओं के लिए मनुष्य के कर्म।

Question ID : 630680173090

Status : Answered

Chosen Option : C

Q.13 मनुष्य इसलिए परीश्रम करता है कि उसे अपना पेट पालना है।
उपर्युक्त वाक्य में किस भाग की वर्तनी अशुद्ध है?

- Ans
- A. पेट पालना है
 - B. परीश्रम करता है
 - C. कि उसे अपना
 - D. मनुष्य इसलिए

Question ID : 630680173053

Status : Answered

Chosen Option : A

Q.14 'सभी प्राणियों में मनुष्य ही सबसे अधिक सामाजिक और सहकारिता-पारायण जीव है।'
वाक्य के अशुद्ध वर्तनी वाले भाग की पहचान कीजिए:

- Ans
- A. सभी प्राणियों में
 - B. सहकारिता-पारायण जीव है
 - C. सामाजिक और
 - D. मनुष्य ही सबसे अधिक

INDIA

Question ID : 630680173059

Status : Answered

Chosen Option : B

Q.15 निम्नलिखित वाक्यों में से शब्दचयन सम्बन्धी अशुद्धि वाले वाक्य का चयन करें।

- Ans
- A. समारोह में मुख्य अतिथि को अभिनन्दन पत्र प्रदान किया गया है।
 - B. वाल्मीकि ने रामायण की रचना की।
 - C. उसे भाषा-विज्ञान का अच्छा ज्ञान है।
 - D. वह अपने वचन पर दृढ़ है।

Question ID : 630680173087

Status : Answered

Chosen Option : C

Q.16 निम्न में से उस वाक्य का चयन करें जिसमें 'कर्म कारक' हो:

- Ans A. गरीब को खाना दे दो।
 B. बालक को जलेबी अच्छी लगती है।
 C. भिखारी को भगा दो।
 D. मैंने कविता को कम्बल दिया।

Question ID : 630680173116

Status : Answered

Chosen Option : B

Q.17 'व्यक्ति का स्वभाव कभी नहीं बदलता'
इस अर्थ वाली कहावत का चयन कीजिए।

- Ans A. अपनी-अपनी ढपली, अपना-अपना राग
 B. गंगा गए गंगादास, जमुना गए जमुनादास
 C. कोयला होइ न ऊजरौ, नौ मन साबुन खाय
 D. बिंध गया सो मोती

Question ID : 630680173066

Status : Answered

Chosen Option : B

Q.18 निम्न वाक्यों में से हेतुहेतुमेद् भूतकाल के वाक्य का चयन कीजिए:

- Ans A. मैं कल फुटबाल का मैच देखने जा रही थी।
 B. अगर उसने मेहनत की होती तो अवश्य नौकरी मिल गयी होती।
 C. मैंने हमेशा से यही सुना है कि जो सत्य बोलता है वह सफल होता है।
 D. डॉ. वासुदेवनंदन प्रसाद ने हिन्दी व्याकरण पर पुस्तक लिखी थी।

Question ID : 630680173105

Status : Answered

Chosen Option : B

Q.19 निम्नलिखित में से 'अपूर्ण अकर्मक क्रिया' वाले वाक्य का चयन करें:

- Ans A. वह मुझे मूर्ख समझता है।
 B. रीना साइकिल चलाती है।
 C. उसका दोस्त बहुत स्वार्थी है।
 D. उसने हमें गाना सुनाया।

Question ID : 630680173120

Status : Answered

Chosen Option : D

Q.20 निम्नलिखित में से शुद्ध पदक्रम वाले विकल्प का चयन करें:

- Ans A. पानी नहीं बरसा यदि सूखा पड़ जाएगा।
 B. गुड़िया की मुर्गी में घर रहती है।
 C. कि वृक्ष पर बैठा हुआ है तोता बच्चा चिल्लाया।
 D. तुमने इस बार बहुत परिश्रम किया है इसलिए सफल भी हो जाओगे।

Question ID : 630680173091

Status : Answered

Chosen Option : D

Comprehension:

‘साहित्य के अध्ययन से हमको जहाँ एक ओर आनंद मिलता है, तो दूसरी ओर उसके जन्म स्थान की सभ्यता, संस्कृति, भाषा, रहन-सहन आदि का परिचय भी मिल जाता है। इस प्रकार से साहित्य अपने समय का इतिहास होता है। इस इतिहास में कल्पना अवश्य होती है लेकिन उसमें निहित सत्य का सत्य होता है। समाज में जो कुछ घटित हो रहा है, या घटित हो सकता है, साहित्यकार उसी को अपने साहित्य में स्वर देता है। जो साहित्य समाज से जुड़ा नहीं होता, समाज की अवहेलना करता है, वह आगे चलकर स्वयं उपेक्षित हो जाता है।

साहित्य और समाज के पारस्परिक संबंधों को लेकर विद्वानों में दो प्रकार के वर्ग बन गए हैं। एक साहित्य की कलात्मकता को प्रमुखता देता है और कहता है कि कला, कला के लिए होनी चाहिए। समाज से उसका कोई लेना-देना नहीं है। दूसरा वर्ग साहित्य को समाज के प्रति उत्तरदायी मानता है और कहता है कि साहित्य समाज के लिए है। साहित्यकार यदि समाज की उपेक्षा कर साहित्य-रचना करता है तो आगे चलकर उसका साहित्य समाज शून्यालाप कहला सकता है। समाज को दृष्टि में रखकर लिखा गया साहित्य, समाज द्वारा आदर पाता है। ऐसा साहित्य अमर होता है। समाज सुरक्षा, भोजन, वस्त्र, आवास आदि की सुविधाएँ देता है, तभी साहित्यकार को कल्पना लोक में विचरण करने, सोचने और कहने-लिखने की प्रेरणा और सुविधा मिलती है। साहित्य समाज से कटकर जीवित नहीं रह सकता।’

SubQuestion No : 21

Q.21 गद्यांश में साहित्य से सम्बंधित कौन से तथ्य निहित हैं?

- Ans A. गद्यांश में साहित्य से सम्बंधित यह तथ्य निहित है कि समाज साहित्यकार को सुरक्षा, भोजन, वस्त्र, आवास आदि की सुविधाएँ देता है। इसलिए साहित्यकार को समाज से जुड़ा रहना आवश्यक है।
 B. गद्यांश में साहित्य से सम्बंधित यह तथ्य निहित है कि यह समाज का दर्पण होता है, इसलिए समाज से अलग नहीं होता।
 C. गद्यांश में साहित्य से सम्बंधित यह तथ्य निहित है कि साहित्य समाज से कटकर जीवित नहीं रह सकता, जो साहित्य समाज से जुड़ा नहीं होता या समाज की अवहेलना करता है, वह एक दिन स्वयं उपेक्षित हो जाता है।
 D. गद्यांश में साहित्य से सम्बंधित यह तथ्य निहित है कि साहित्य दो वर्गों में विभाजित है।

Question ID : 630680173133

Status : Answered

Chosen Option : C

Comprehension:

‘साहित्य के अध्ययन से हमको जहाँ एक ओर आनंद मिलता है, तो दूसरी ओर उसके जन्म स्थान की सभ्यता, संस्कृति, भाषा, रहन-सहन आदि का परिचय भी मिल जाता है। इस प्रकार से साहित्य अपने समय का इतिहास होता है। इस इतिहास में कल्पना अवश्य होती है लेकिन उसमें निहित सत्य का सत्य होता है। समाज में जो कुछ घटित हो रहा है, या घटित हो सकता है, साहित्यकार उसी को अपने साहित्य में स्वर देता है। जो साहित्य समाज से जुड़ा नहीं होता, समाज की अवहेलना करता है, वह आगे चलकर स्वयं उपेक्षित हो जाता है।

साहित्य और समाज के पारस्परिक संबंधों को लेकर विद्वानों में दो प्रकार के वर्ग बन गए हैं। एक साहित्य की कलात्मकता को प्रमुखता देता है और कहता है कि कला, कला के लिए होनी चाहिए। समाज से उसका कोई लेना-देना नहीं है। दूसरा वर्ग साहित्य को समाज के प्रति उत्तरदायी मानता है और कहता है कि साहित्य समाज के लिए है। साहित्यकार यदि समाज की उपेक्षा कर साहित्य-रचना करता है तो आगे चलकर उसका साहित्य समाज शून्यालाप कहला सकता है। समाज को दृष्टि में रखकर लिखा गया साहित्य, समाज द्वारा आदर पाता है। ऐसा साहित्य अमर होता है। समाज सुरक्षा, भोजन, वस्त्र, आवास आदि की सुविधाएँ देता है, तभी साहित्यकार को कल्पना लोक में विचरण करने, सोचने और कहने-लिखने की प्रेरणा और सुविधा मिलती है। साहित्य समाज से कटकर जीवित नहीं रह सकता।’

SubQuestion No : 22

Q.22 ‘उपेक्षा’ के विलोमार्थी शब्द का चयन करें:

Ans A. अपेक्षा

B. उत्प्रेक्षा

C. परीक्षा

D. अभीक्षा

Question ID : 630680173134

Status : Answered

Chosen Option : D



INDIA

Comprehension:

‘साहित्य के अध्ययन से हमको जहाँ एक ओर आनंद मिलता है, तो दूसरी ओर उसके जन्म स्थान की सभ्यता, संस्कृति, भाषा, रहन-सहन आदि का परिचय भी मिल जाता है। इस प्रकार से साहित्य अपने समय का इतिहास होता है। इस इतिहास में कल्पना अवश्य होती है लेकिन उसमें निहित सत्य का सत्य होता है। समाज में जो कुछ घटित हो रहा है, या घटित हो सकता है, साहित्यकार उसी को अपने साहित्य में स्वर देता है। जो साहित्य समाज से जुड़ा नहीं होता, समाज की अवहेलना करता है, वह आगे चलकर स्वयं उपेक्षित हो जाता है।

साहित्य और समाज के पारस्परिक संबंधों को लेकर विद्वानों में दो प्रकार के वर्ग बन गए हैं। एक साहित्य की कलात्मकता को प्रमुखता देता है और कहता है कि कला, कला के लिए होनी चाहिए। समाज से उसका कोई लेना-देना नहीं है। दूसरा वर्ग साहित्य को समाज के प्रति उत्तरदायी मानता है और कहता है कि साहित्य समाज के लिए है। साहित्यकार यदि समाज की उपेक्षा कर साहित्य-रचना करता है तो आगे चलकर उसका साहित्य समाज शून्यालाप कहला सकता है। समाज को दृष्टि में रखकर लिखा गया साहित्य, समाज द्वारा आदर पाता है। ऐसा साहित्य अमर होता है। समाज सुरक्षा, भोजन, वस्त्र, आवास आदि की सुविधाएँ देता है, तभी साहित्यकार को कल्पना लोक में विचरण करने, सोचने और कहने-लिखने की प्रेरणा और सुविधा मिलती है। साहित्य समाज से कटकर जीवित नहीं रह सकता।’

SubQuestion No : 23

Q.23 उपर्युक्त गद्यांश के उचित सारांश का चयन कीजिये जिसमें सारांश- लेखन के आवश्यक तत्व मौजूद हों:

Ans A. साहित्य के अध्ययन से हमको आनंद मिलता है, साथ ही तत्कालीन संस्कृति, भाषा आदि का ऐतिहासिक परिचय मिलता है। साहित्य और समाज परस्पर जुड़े होते हैं। साहित्य और समाज के पारस्परिक संबंधों के विषय में विद्वानों के दो वर्ग बन गए हैं जिसमें एक कलात्मकता को प्रमुखता देता है तो दूसरा साहित्य को समाज के प्रति उत्तरदायी मानता है। कोई रचना तभी अमर हो सकती है जब वह समाज को दृष्टि में रखकर लिखी गयी हो अन्यथा समाज उसे आदर नहीं देता, नकार देता है।

B. समाज में जो कुछ घटित हो रहा है, या घटित हो सकता है, साहित्यकार को अपनी रचना में उसी को लिखना चाहिए। कलात्मक साहित्य को समाज उपेक्षित कर देता है और साहित्यकार की उपेक्षा। कोई साहित्यकार को कल्पना लोक में रहकर ही साहित्य का सृजन नहीं कर सकता, उसके लिए उसे समाज पर आश्रित रहना होता है जो उसके भोजन, वस्त्र, आवास आदि की व्यवस्था करता है।

C. साहित्य समाज का इतिहास होता है जिसके अध्ययन से हमको खुशी मिलती है। किन्तु यदि साहित्य में कला का अभाव है तो वह कोई साहित्य नहीं है। ऐतिहासिक साहित्य एक दिन समाज से उपेक्षित हो जाता है और उसका कोई अस्तित्व नहीं रहता।

D. साहित्य के अध्ययन से हमको जहाँ एक ओर आनंद मिलता है वहीं कोई साहित्य समाज से कटकर तभी जीवित रह सकता है जब साहित्यकार समाज पर आश्रित न हो। साहित्य में कला को प्रमुखता देनी चाहिए तभी पढ़ने में आनंद आता है। साहित्यकार की उपेक्षा से समाज को भी उपेक्षित होना पड़ता है।

Question ID : 630680173135

Status : Answered

Chosen Option : A

Comprehension:

'साहित्य के अध्ययन से हमको जहाँ एक ओर आनंद मिलता है, तो दूसरी ओर उसके जन्म स्थान की सभ्यता, संस्कृति, भाषा, रहन-सहन आदि का परिचय भी मिल जाता है। इस प्रकार से साहित्य अपने समय का इतिहास होता है। इस इतिहास में कल्पना अवश्य होती है लेकिन उसमें निहित सत्य का सत्य होता है। समाज में जो कुछ घटित हो रहा है, या घटित हो सकता है, साहित्यकार उसी को अपने साहित्य में स्वर देता है। जो साहित्य समाज से जुड़ा नहीं होता, समाज की अवहेलना करता है, वह आगे चलकर स्वयं उपेक्षित हो जाता है।

साहित्य और समाज के पारस्परिक संबंधों को लेकर विद्वानों में दो प्रकार के वर्ग बन गए हैं। एक साहित्य की कलात्मकता को प्रमुखता देता है और कहता है कि कला, कला के लिए होनी चाहिए। समाज से उसका कोई लेना-देना नहीं है। दूसरा वर्ग साहित्य को समाज के प्रति उत्तरदायी मानता है और कहता है कि साहित्य समाज के लिए है। साहित्यकार यदि समाज की उपेक्षा कर साहित्य-रचना करता है तो आगे चलकर उसका साहित्य समाज शून्यालाप कहला सकता है। समाज को दृष्टि में रखकर लिखा गया साहित्य, समाज द्वारा आदर पाता है। ऐसा साहित्य अमर होता है। समाज सुरक्षा, भोजन, वस्त्र, आवास आदि की सुविधाएँ देता है, तभी साहित्यकार को कल्पना लोक में विचरण करने, सोचने और कहने-लिखने की प्रेरणा और सुविधा मिलती है। साहित्य समाज से कटकर जीवित नहीं रह सकता।'

SubQuestion No : 24

Q.24 गद्यांश से साहित्य के विषय में क्या-क्या जानकारी मिलती है?

Ans A. साहित्य अमर होता है।

B. साहित्य से आस-पास घट रही घटनाओं की झलक मिलती है, जिसमें तत्कालीन सामाजिक इतिहास की सत्य जानकारी निहित होती है।

C. साहित्य और समाज के पारस्परिक संबंधों को लेकर विद्वानों में दो प्रकार के वर्ग बन गए हैं।

D. साहित्यकारों के दो वर्गों में विरोधाभास है।

Question ID : 630680173132

Status : Answered

Chosen Option : C

Comprehension:

'साहित्य के अध्ययन से हमको जहाँ एक ओर आनंद मिलता है, तो दूसरी ओर उसके जन्म स्थान की सभ्यता, संस्कृति, भाषा, रहन-सहन आदि का परिचय भी मिल जाता है। इस प्रकार से साहित्य अपने समय का इतिहास होता है। इस इतिहास में कल्पना अवश्य होती है लेकिन उसमें निहित सत्य का सत्य होता है। समाज में जो कुछ घटित हो रहा है, या घटित हो सकता है, साहित्यकार उसी को अपने साहित्य में स्वर देता है। जो साहित्य समाज से जुड़ा नहीं होता, समाज की अवहेलना करता है, वह आगे चलकर स्वयं उपेक्षित हो जाता है।

साहित्य और समाज के पारस्परिक संबंधों को लेकर विद्वानों में दो प्रकार के वर्ग बन गए हैं। एक साहित्य की कलात्मकता को प्रमुखता देता है और कहता है कि कला, कला के लिए होनी चाहिए। समाज से उसका कोई लेना-देना नहीं है। दूसरा वर्ग साहित्य को समाज के प्रति उत्तरदायी मानता है और कहता है कि साहित्य समाज के लिए है। साहित्यकार यदि समाज की उपेक्षा कर साहित्य-रचना करता है तो आगे चलकर उसका साहित्य समाज शून्यालाप कहला सकता है। समाज को दृष्टि में रखकर लिखा गया साहित्य, समाज द्वारा आदर पाता है। ऐसा साहित्य अमर होता है। समाज सुरक्षा, भोजन, वस्त्र, आवास आदि की सुविधाएँ देता है, तभी साहित्यकार को कल्पना लोक में विचरण करने, सोचने और कहने-लिखने की प्रेरणा और सुविधा मिलती है। साहित्य समाज से कटकर जीवित नहीं रह सकता।'

SubQuestion No : 25

Q.25 गद्यांश के आधार पर साहित्य और समाज का वास्तविक जीवन में क्या सम्बन्ध है? सर्वोचित विकल्प का चयन करें:

Ans A. समाज, साहित्यकार को कल्पना लोक में विचरण करने का अवसर देता है, इसलिए साहित्य समाज से जुड़ा है।

B. साहित्य के अध्ययन से आनंद मिलता है और समाज खुश रहता है।

C. साहित्य समाज के प्रति उत्तरदायी है इसलिए उसका अभिन्न अंग है।

D. साहित्य का अध्ययन आनंद के साथ-साथ समाज की सभ्यता, संस्कृति, भाषा, रहन-सहन आदि का परिचय भी देता है।

Question ID : 630680173131

Status : Answered

Chosen Option : C

Q.1 Select the most appropriate meaning of the given idiom.
Broken reed

- Ans A. Something which is not perfect and in good condition
 B. Someone or something too frail to provide support
 C. Someone or something in a danger of being forgotten
 D. Someone who has broken off all ties with the family

Question ID : 630680172949

Status : Not Answered

Chosen Option : --

Q.2 Select the most appropriate option to fill in the blanks.
The World Economic Forum _____ that we are on the cusp of a fourth industrial revolution. Technological, socio-economic and _____ shifts are transforming the way we work, demanding _____ in the way individuals, teams and organisations work. We all have different things happening in our lives at different times.

- Ans A. honours; gender; commitment
 B. declares; political; strictness
 C. predicts; demographic; flexibility
 D. administers; cultural; consideration

Question ID : 630680172986

Status : Not Answered

Chosen Option : --

Q.3 Select the most appropriate option to fill in the blanks.
Much has been said of the common ground of religious _____. I am not going just now to _____ my own theory. But if anyone here hopes that this integration will come by the _____ of any one of the religions and the destruction of the others, to him I say, "Brother, yours is an impossible hope."

- Ans A. abhorrence; lecture; disorientation
 B. unity; venture; triumph
 C. abomination; present; disclosure
 D. resentment; showcase; announcement

Question ID : 630680172976

Status : Not Answered

Chosen Option : --

Q.4 Select the option that has a spelling error.

- Ans A. India has a plethora of natural resources, and we must protect them.
 B. His ignoble motives were exposed by his wicked actions.
 C. The foray against the enemy outpost met with an unexpected success.
 D. He is a hardened criminal and has often been to gaole.

Question ID : 630680172957

Status : Not Answered

Chosen Option : --

Q.5 Select the most appropriate article to fill in the blank. In case no article is needed, select 'No article required'.

_____ book that you need for the assignment is with Mary.

- Ans
- A. The
 - B. An
 - C. A
 - D. No article required

Question ID : 630680173004
Status : Not Answered
Chosen Option : --

Q.6 Choose the sentence which has a spelling error.

- Ans
- A. It's another egragious example of favouritism when the minister hired his brother as his assistant.
 - B. Everybody resents the supercilious treatment of the manager.
 - C. After a long legal battle, he was exonerated of murder charges.
 - D. He always offers such preposterous excuses that nobody believes him.

Question ID : 630680172963
Status : Not Answered
Chosen Option : --

Q.7 Select the most appropriate option to fill in the blanks.

The reasons for the murder of the gangster are not within the _____ of the _____ committee.

- Ans
- A. jurisdiction; antagonistic
 - B. purview; inquiry
 - C. providence; sympathetic
 - D. horizon; selection

Question ID : 630680172990
Status : Not Answered
Chosen Option : --

Q.8 Select the most appropriate option to fill in the blank.

The director as well as the dancers _____ honoured by the public.

- Ans
- A. were being
 - B. were
 - C. was
 - D. have been

Question ID : 630680173000
Status : Not Answered
Chosen Option : --

Q.9 Select the most appropriate option to fill in the blank.
_____ days I passed in the jungle resort was exciting.

- Ans A. Some few
 B. The few
 C. Few
 D. A few

Question ID : 630680172996
Status : Not Answered
Chosen Option : --

Q.10 Select the most appropriate article to fill in the blank. In case no article is needed, select 'No article required'.
Twelve inches make _____ foot.

- Ans A. the
 B. a
 C. an
 D. No article required

Question ID : 630680173010
Status : Not Answered
Chosen Option : --

Q.11 Select the most appropriate option to fill in the blanks.
So long as we are children, we are _____ by toys, and the Eiffel Tower was a good _____ of the fact that we are children enticed by _____. That may be claimed to be the purpose served by the Eiffel Tower.

- Ans A. pampered; fallacy; materials
 B. attracted; demonstration; trinkets
 C. perplexed; disagreement; trash
 D. confused; activism; wealth

Question ID : 630680172975
Status : Not Answered
Chosen Option : --

Q.12 Select the most appropriate option to fill in the blank.
It _____ when I reached there.

- Ans A. was still raining
 B. still raining
 C. had still rained
 D. is still raining

Question ID : 630680173014
Status : Not Answered
Chosen Option : --

Q.13 Select the most appropriate option to fill in the blanks.
They found the workshop without its owner. M Thimonier had escaped through the back door. Now the fury of the _____ turned against the machines that were standing in the shop, ready to be _____ to buyers. They were _____ broken up and destroyed—dozens of them.

- Ans
- A. humbugs; dismantled; rhythmically
 - B. monarchs; disguised; instinctively
 - C. evangelists; stacked; thoughtfully
 - D. demonstrators; dispatched; systematically

Question ID : 630680172987

Status : Not Answered

Chosen Option : --

Q.14 Select the most appropriate option to fill in the blanks.
Every profession or trade, every art and every science has its technical _____, the function of which is partly to _____ things or processes that have no names in ordinary English and partly to secure greater exactness in _____. Such special dialects or jargons are necessary in technical discussions of any kind.

- Ans
- A. syntax; stabilise; vocabulary
 - B. vocabulary; designate; nomenclature
 - C. structures; laminate; alphabet
 - D. behaviours; confuse; character

Question ID : 630680172984

Status : Not Answered

Chosen Option : --

Q.15 Select the most appropriate option to fill in the blank.
Rahul _____ a movie on television now.

- Ans
- A. is watched
 - B. will be watched
 - C. watch
 - D. will be watching

Question ID : 630680173016

Status : Not Answered

Chosen Option : --

Q.16 Select the most appropriate option to fill in the blanks.
After a busy schedule during the day, he felt _____ and _____.

- Ans
- A. languid; lethargic
 - B. gracious; guileless
 - C. judicious; jovial
 - D. fickle; fallible

Question ID : 630680172994

Status : Not Answered

Chosen Option : --

Q.17 Select the most appropriate option to fill in the blanks.
Not all agricultural _____ become civilisations, but no civilisation can become one without passing through the stage of agriculture. This is because at some point in the development of agriculture, as productivity improves, not all people would need to be _____ in producing or _____ food.

- Ans
- A. associations; motivated; consuming
 - B. ministries; chaperoned; loathing
 - C. universities; brought; devouring
 - D. societies; engaged; procuring

Question ID : 630680172978
Status : Not Answered
Chosen Option : --

Q.18 Select the proverb that means the following.
Relationships between family members are the strongest of all.

- Ans
- A. When in Rome, do as the Romans.
 - B. The apple doesn't fall far from the tree.
 - C. Birds of the same feather flock together.
 - D. Blood is thicker than water.

Question ID : 630680172952
Status : Not Answered
Chosen Option : --

Q.19 Select the most appropriate ANTONYM of the given word.
Abominable

- Ans
- A. Repugnant
 - B. Acceptable
 - C. Loathsome
 - D. Detestable

INDIA

Question ID : 630680172940
Status : Not Answered
Chosen Option : --

Q.20 Select the most appropriate synonym of the given word.
Munificent

- Ans
- A. Magnanimous
 - B. Economical
 - C. Frugal
 - D. Penurious

Question ID : 630680172945
Status : Not Answered
Chosen Option : --

Comprehension:

Read the given passage and answer the questions that follow.

A person who takes the trouble to form his own opinions and beliefs will feel that he owes no responsibility to the majority for his conclusions. If he is a genuine lover of truth, if he is inspired by a passion for seeing things as they are and an abhorrence of holding ideas which do not conform to facts, he will be wholly independent of the assent of those around him.

When he proceeds to apply his beliefs in the practical conduct of life, the position is different. There are then good reasons why his attitude should be less inflexible. The society in which he is placed is an ancient and composite growth. The people from whom he dissents have not come by their opinions, customs and by a process of a mere haphazard way.

These opinions and customs all had their origin in a certain real supposed fitness. They have certain depth of root in the lives of a proportion of the existing generation. Their congruity with one another may have come to an end. That is only one side of the truth. The most zealous propagandism cannot penetrate to them. In common language, we speak of a generation as something possessed of a kind of exact unity, with all its parts and members homogenous. Yet, plainly, it is not this. It is a whole but a whole in a state of constant flux; its factors and elements are eternally shifting. It is not one but many generations.

Each of the seven ages of man is neighbour to all the rest. The column of the veterans is already sinking into the last abyss, while the column of the newest recruits is forming to each its tradition, its tendency and its possibilities. Only a proportion of each can have nerve enough to grasp the banner of a new truth and endurance to bear it along rugged and untrodden ways. Thus, we must remember the stuff of which life is made.

SubQuestion No : 21

Q.21 Which word in the passage means 'of the same kind'?

- Ans
- A. Whole
 - B. Flux
 - C. Homogenous
 - D. Unity



Question ID : 630680173042

Status : Not Answered

Chosen Option : --

INDIA

Comprehension:

Read the given passage and answer the questions that follow.

A person who takes the trouble to form his own opinions and beliefs will feel that he owes no responsibility to the majority for his conclusions. If he is a genuine lover of truth, if he is inspired by a passion for seeing things as they are and an abhorrence of holding ideas which do not conform to facts, he will be wholly independent of the assent of those around him.

When he proceeds to apply his beliefs in the practical conduct of life, the position is different. There are then good reasons why his attitude should be less inflexible. The society in which he is placed is an ancient and composite growth. The people from whom he dissents have not come by their opinions, customs and by a process of a mere haphazard way.

These opinions and customs all had their origin in a certain real supposed fitness. They have certain depth of root in the lives of a proportion of the existing generation. Their congruity with one another may have come to an end. That is only one side of the truth. The most zealous propagandism cannot penetrate to them. In common language, we speak of a generation as something possessed of a kind of exact unity, with all its parts and members homogenous. Yet, plainly, it is not this. It is a whole but a whole in a state of constant flux; its factors and elements are eternally shifting. It is not one but many generations.

Each of the seven ages of man is neighbour to all the rest. The column of the veterans is already sinking into the last abyss, while the column of the newest recruits is forming to each its tradition, its tendency and its possibilities. Only a proportion of each can have nerve enough to grasp the banner of a new truth and endurance to bear it along rugged and untrodden ways. Thus, we must remember the stuff of which life is made.

SubQuestion No : 22

Q.22 Which word in the passage means 'having a broken, rocky and uneven surface'?

- Ans
- A. Congruity
 - B. Haphazard
 - C. Rugged
 - D. Untrodden



Question ID : 630680173043

Status : Not Answered

Chosen Option : --

Comprehension:

Read the given passage and answer the questions that follow.

A person who takes the trouble to form his own opinions and beliefs will feel that he owes no responsibility to the majority for his conclusions. If he is a genuine lover of truth, if he is inspired by a passion for seeing things as they are and an abhorrence of holding ideas which do not conform to facts, he will be wholly independent of the assent of those around him.

When he proceeds to apply his beliefs in the practical conduct of life, the position is different. There are then good reasons why his attitude should be less inflexible. The society in which he is placed is an ancient and composite growth. The people from whom he dissents have not come by their opinions, customs and by a process of a mere haphazard way.


These opinions and customs all had their origin in a certain real supposed fitness. They have certain depth of root in the lives of a proportion of the existing generation. Their congruity with one another may have come to an end. That is only one side of the truth. The most zealous propagandism cannot penetrate to them. In common language, we speak of a generation as something possessed of a kind of exact unity, with all its parts and members homogenous. Yet, plainly, it is not this. It is a whole but a whole in a state of constant flux; its factors and elements are eternally shifting. It is not one but many generations.

Each of the seven ages of man is neighbour to all the rest. The column of the veterans is already sinking into the last abyss, while the column of the newest recruits is forming to each its tradition, its tendency and its possibilities. Only a proportion of each can have nerve enough to grasp the banner of a new truth and endurance to bear it along rugged and untrodden ways. Thus, we must remember the stuff of which life is made.

SubQuestion No : 23

Q.23 What is the author's opinion on the homogeneity of a generation?

- Ans
- A. Even though it seems that a generation is similar in all aspects, and in that sense, static in its beliefs, but in reality, it is undergoing continuous changes.
 - B. There is nothing called a generation. Life is a miracle, and each one of us is living our own individual life. The very idea of generation itself is a myth.
 - C. The older generation of people had several similarities in their opinions and beliefs, but the younger generation does not have that.
 - D. Every generation has too many differences and in that sense, there is no similarity among its members.



Question ID : 630680173040
Status : Not Answered
Chosen Option : --

Comprehension:

Read the given passage and answer the questions that follow.

A person who takes the trouble to form his own opinions and beliefs will feel that he owes no responsibility to the majority for his conclusions. If he is a genuine lover of truth, if he is inspired by a passion for seeing things as they are and an abhorrence of holding ideas which do not conform to facts, he will be wholly independent of the assent of those around him.

When he proceeds to apply his beliefs in the practical conduct of life, the position is different. There are then good reasons why his attitude should be less inflexible. The society in which he is placed is an ancient and composite growth. The people from whom he dissents have not come by their opinions, customs and by a process of a mere haphazard way.

These opinions and customs all had their origin in a certain real supposed fitness. They have certain depth of root in the lives of a proportion of the existing generation. Their congruity with one another may have come to an end. That is only one side of the truth. The most zealous propagandism cannot penetrate to them. In common language, we speak of a generation as something possessed of a kind of exact unity, with all its parts and members homogenous. Yet, plainly, it is not this. It is a whole but a whole in a state of constant flux; its factors and elements are eternally shifting. It is not one but many generations.

Each of the seven ages of man is neighbour to all the rest. The column of the veterans is already sinking into the last abyss, while the column of the newest recruits is forming to each its tradition, its tendency and its possibilities. Only a proportion of each can have nerve enough to grasp the banner of a new truth and endurance to bear it along rugged and untrodden ways. Thus, we must remember the stuff of which life is made.

SubQuestion No : 24

Q.24 Select the most appropriate central theme of the passage from the options given below.

- Ans** A. Differences in the thinking of individuals of different ages
 B. Individual beliefs vis-à-vis established opinions and customs
 C. The requirement of flexibility in an individual's thinking
 D. The importance of following age-old traditions and customs

Question ID : 630680173039

Status : Not Answered

Chosen Option : --

Comprehension:

Read the given passage and answer the questions that follow.

A person who takes the trouble to form his own opinions and beliefs will feel that he owes no responsibility to the majority for his conclusions. If he is a genuine lover of truth, if he is inspired by a passion for seeing things as they are and an abhorrence of holding ideas which do not conform to facts, he will be wholly independent of the assent of those around him.

When he proceeds to apply his beliefs in the practical conduct of life, the position is different. There are then good reasons why his attitude should be less inflexible. The society in which he is placed is an ancient and composite growth. The people from whom he dissents have not come by their opinions, customs and by a process of a mere haphazard way.

These opinions and customs all had their origin in a certain real supposed fitness. They have certain depth of root in the lives of a proportion of the existing generation. Their congruity with one another may have come to an end. That is only one side of the truth. The most zealous propagandism cannot penetrate to them. In common language, we speak of a generation as something possessed of a kind of exact unity, with all its parts and members homogenous. Yet, plainly, it is not this. It is a whole but a whole in a state of constant flux; its factors and elements are eternally shifting. It is not one but many generations.

Each of the seven ages of man is neighbour to all the rest. The column of the veterans is already sinking into the last abyss, while the column of the newest recruits is forming to each its tradition, its tendency and its possibilities. Only a proportion of each can have nerve enough to grasp the banner of a new truth and endurance to bear it along rugged and untrodden ways. Thus, we must remember the stuff of which life is made.

SubQuestion No : 25

Q.25 What is the author's opinion on people who "have nerve enough"?

- Ans
- A. Such people are homogenous with the customs being followed in their communities from generations together and have the nerve to abide by the same.
 - B. Such people are very small in number, but they alone have the guts to move out of the established norms and take their beliefs forward amidst difficulties.
 - C. Such people exist only among the youngsters who have the nerve to go against established norms, whereas, in the case of veterans they are stuck to age-old customs.
 - D. Such people existed only in the past in large numbers, but at present we do not see such individuals at all who have the guts to stand by their beliefs.

Question ID : 630680173041

Status : Not Answered

Chosen Option : --

Section : General Aptitude

Q.1 1809 में, ब्रिटिश ईस्ट इंडिया कंपनी का प्रतिनिधित्व करने वाले चार्ल्स टी. मेटकाफ (Charles T Metcalfe) और _____ के बीच अमृतसर की संधि संपन्न हुई थी।

- Ans
- A. महाराजा रणजीत सिंह
 - B. महारानी चाँद कौर
 - C. महाराजा नौ निहाल सिंह
 - D. महाराजा खड़क सिंह

Question ID : 630680173276

Status : Answered

Chosen Option : A

Q.2 दिल्ली की जामा मस्जिद का निर्माण निम्नलिखित में से किस मुगल शासक ने करवाया था?

- Ans
- A. हुमायूं
 - B. शाहजहां
 - C. मुहम्मद आजम शाह
 - D. जहांगीर

Question ID : 630680173268

Status : Answered

Chosen Option : D

Q.3 2022-23 के बजट में समग्र शिक्षा योजना के लिए कितना बजट आवंटित किया गया था?

- Ans
- A. ₹37,383 करोड़
 - B. ₹47,383 करोड़
 - C. ₹57,383 करोड़
 - D. ₹67,383 करोड़

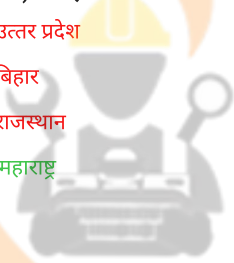
Question ID : 630680173299

Status : Not Answered

Chosen Option : --

Q.4 भारत सरकार द्वारा जारी राष्ट्रीय अपराध रेकॉर्ड ब्यूरो (NCRB) के आंकड़ों के अनुसार, 2021 में भारतीय दंड संहिता (IPC) के तहत निम्नलिखित में से किस राज्य में सबसे अधिक अपराध हुए हैं?

- Ans
- A. उत्तर प्रदेश
 - B. बिहार
 - C. राजस्थान
 - D. महाराष्ट्र



INDIA

Question ID : 630680173253

Status : Answered

Chosen Option : A

Q.5 निम्नलिखित में से किस अधिनियम के द्वारा, स्टेट बैंक ऑफ इंडिया ने इंपीरियल बैंक ऑफ इंडिया का स्थान ले लिया, जो उस समय का सबसे बड़ा वाणिज्यिक बैंक था, और ब्रिटिश भारत के लिए सेंट्रल बैंक के रूप में कार्य करता था?

- Ans
- A. भारतीय स्टेट बैंक अधिनियम, 1953
 - B. भारतीय स्टेट बैंक अधिनियम, 1950
 - C. भारतीय स्टेट बैंक अधिनियम, 1956
 - D. भारतीय स्टेट बैंक अधिनियम, 1955

Question ID : 630680173303

Status : Answered

Chosen Option : B

Q.6 दर्शना झावेरी निम्नलिखित में से किस शास्त्रीय नृत्य के लिए जानी जाती हैं?

- Ans A. भरतनाट्यम
 B. कथक
 C. मणिपुरी
 D. ओडिसी

Question ID : 630680173287
Status : Not Answered
Chosen Option : --

Q.7 जुलाई 2022 के महीने में, वर्ल्ड बैंक ने भारत सरकार की निम्नलिखित में से किस योजना के लिए कुल US \$1.75 बिलियन के ऋण को मंजूरी दी?

- Ans A. प्रधान मंत्री वय वंदना योजना
 B. स्टार्टअप इंडिया सीड फंड योजना
 C. आयुष्मान सहकार योजना
 D. आयुष्मान भारत योजना

Question ID : 630680173307
Status : Answered
Chosen Option : D

Q.8 निम्नलिखित में से किस संगठन ने वर्ष 2021 और 2022 के लिए 'पेटेंट आवेदन, अनुदान और वाणिज्यीकरण के लिए शीर्ष अनुसंधान और विकास संस्थान/संगठन' श्रेणी के तहत राष्ट्रीय आईपी (IP) पुरस्कार प्राप्त किया?

- Ans A. आर्थिक और सामाजिक अध्ययन केंद्र
 B. नैनो विज्ञान और प्रौद्योगिकी संस्थान
 C. वैज्ञानिक तथा औद्योगिक अनुसंधान परिषद
 D. टाटा मूलभूत अनुसंधान संस्थान

INDIA

Question ID : 630680173249
Status : Not Answered
Chosen Option : --

Q.9 मझगवां में राष्ट्रीय खनिज विकास निगम की हीरा खनन परियोजना भारत के निम्नलिखित में से किस राज्य में है?

- Ans A. मध्य प्रदेश
 B. महाराष्ट्र
 C. गोवा
 D. कर्नाटक

Question ID : 630680173310
Status : Answered
Chosen Option : A

Q.10 ऑक्सफोर्ड पॉवर्टी एंड ह्यूमन डेवलपमेंट इनीशिएटिव और संयुक्त राष्ट्र विकास कार्यक्रम द्वारा प्रकाशित 'वैश्विक बहुआयामी गरीबी सूचकांक ((GMPI), 2021 (Global Multidimensional Poverty Index (GMPI), 2021))' शीर्षक वाली पहली रिपोर्ट में भारत में निम्नलिखित में से किस समुदाय में सबसे अधिक गरीबी है?

- Ans A. अनुसूचित जनजाति (ST)
 B. अन्य पिछड़ा वर्ग (OBC)
 C. अल्पसंख्यक
 D. अनुसूचित जाति (SC)

Question ID : 630680173256
Status : Answered
Chosen Option : A

Q.11 हड़प्पा की पहली यात्रा 1826 CE में _____ द्वारा की गई थी।

- Ans A. ज्योफ बेली (Geoff Bailey)
 B. रॉबर्ट ब्रूस फूटे (Robert Bruce Foote)
 C. पॉल बान (Paul Bahn)
 D. जेम्स लुईस (James Lewis)

Question ID : 630680173280
Status : Not Answered
Chosen Option : --

Q.12 मई 2022 के महीने में, निम्नलिखित में से किस संतूर वादक का मुंबई में निधन हुआ?

- Ans A. जीवन कुमार शर्मा
 B. शिव कुमार शर्मा
 C. विमल कुमार शर्मा
 D. रवि कुमार वर्मा

Question ID : 630680173291
Status : Not Answered
Chosen Option : --

Q.13 2022 का दिल्ली नगर निगम चुनाव कितने वार्डों में लड़ा गया था?

- Ans A. 230
 B. 270
 C. 280
 D. 250

Question ID : 630680173341
Status : Answered
Chosen Option : D

Q.14 दिसंबर 2022 में तमिलनाडु में आए चक्रवाती तूफान 'मैन डूस ('Mandous') का नाम निम्नलिखित में से किस देश ने सुझाया था?

- Ans A. बांग्लादेश
 B. संयुक्त अरब अमीरात
 C. म्यांमार
 D. मालदीव

Question ID : 630680173313
Status : Answered
Chosen Option : A

Q.15 2011 की जनगणना के अनुसार, देश में निम्नलिखित में से किस राज्य में तीसरी न्यूनतम साक्षरता दर दर्ज की गई?

- Ans A. बिहार
 B. हरियाणा
 C. अरुणाचल प्रदेश
 D. राजस्थान

Question ID : 630680173317
Status : Answered
Chosen Option : D

Q.16 भारत में निम्नलिखित में से कौन सा अधिकार है जो कहता है कि एक व्यक्ति अपने मौलिक अधिकारों की रक्षा के लिए सर्वोच्च न्यायालय जा सकता है?

- Ans A. समानता का अधिकार
 B. स्वतंत्रता का अधिकार
 C. शोषण के विरुद्ध अधिकार
 D. संवैधानिक उपचारों का अधिकार

INDIA

Question ID : 630680173338
Status : Answered
Chosen Option : B

Q.17 संगीतकार वसंत देसाई द्वारा राग अहीर भैरव में रचित गीत 'वंदना करो' निम्नलिखित में से किस फिल्म के लिए संगीतबद्ध किया गया था?

- Ans A. मधुमती
 B. लड़की सहाद्री की
 C. दो आंखें बारह हाथ
 D. आनंद मठ

Question ID : 630680173294
Status : Answered
Chosen Option : D

Q.18 भड़ला सौर पार्क भारत के निम्नलिखित में से किस राज्य में स्थित है?

- Ans A. छत्तीसगढ़
 B. गुजरात
 C. राजस्थान
 D. मध्य प्रदेश

Question ID : 630680173321
Status : Not Answered
Chosen Option : --

Q.19 दिल्ली में पहले शराब के सेवन की न्यूनतम आयु क्या थी, जिसे वर्ष 2021 में बदलकर 21 वर्ष किया गया है?

- Ans A. 23 वर्ष
 B. 25 वर्ष
 C. 18 वर्ष
 D. 20 वर्ष

Question ID : 630680173260
Status : Answered
Chosen Option : A

Q.20 POCSO अधिनियम निम्नलिखित में से किस वर्ष के बाल दिवस पर लागू हुआ था?

- Ans A. 2013
 B. 2015
 C. 2012
 D. 2014



Question ID : 630680173272
Status : Answered
Chosen Option : B

Q.21 आवर्त सारणी में निम्नलिखित में से पांचवां तत्व कौन सा है?

- Ans A. बेरिलियम
 B. हीलियम
 C. बोरॉन
 D. क्रोमियम

Question ID : 630680173332
Status : Answered
Chosen Option : C

Q.22 जनवरी 2023 में नोटबंदी पर फैसला सुनाने वाली सुप्रीम कोर्ट की संविधान पीठ की अध्यक्षता किसने की?

- Ans A. न्यायमूर्ति ए.एस. बोपन्ना
 B. न्यायमूर्ति एस.ए. नज़ीर
 C. न्यायमूर्ति बी. वी. नागरत्ना
 D. न्यायमूर्ति वी. रामासुब्रमणियन

Question ID : 630680173344
Status : Answered
Chosen Option : A

Q.23 आमाशय का वह भाग जो ग्रहणी (duodenum) से जुड़ता है, _____ कहलाता है।

- Ans A. त्रिकपर्दी
 B. द्विकपर्दी
 C. फुफ्फुसी
 D. जठरनिर्गम

Question ID : 630680173330

Status : Answered

Chosen Option : D

Q.24 डोडर पादपों में निम्नलिखित में से किस भाग की कमी होती है?

- Ans A. फल
 B. तना
 C. जड़ें
 D. पत्तियां

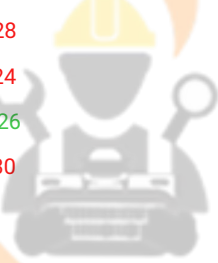
Question ID : 630680173326

Status : Answered

Chosen Option : D

Q.25 वर्ष 2022 में, भारत के ईशान किशन ने कितनी गेंदों में दोहरा शतक लगाकर एकदिवसीय अंतरराष्ट्रीय क्रिकेट में दोहरा शतक लगाने वाले सातवें बल्लेबाज होने का गौरव हासिल किया?

- Ans A. 128
 B. 124
 C. 126
 D. 130



INDIA

Question ID : 630680173265

Status : Not Answered

Chosen Option : --

Section : General Intelligence

Q.1 दिए गए कथनों और निष्कर्षों को ध्यानपूर्वक पढ़ें। यह मानते हुए कि कथनों में दी गई जानकारी सत्य है, भले ही यह सामान्य रूप से ज्ञात तथ्यों से भिन्न प्रतीत होती हो, तय करें कि दिए गए निष्कर्षों में से कौन सा/से निष्कर्ष कथनों का तार्किक रूप से अनुसरण करता है/करते हैं।

कथन:

1. सभी कुर्सियां, मोबाइल हैं।
2. कोई मोबाइल, टेबल नहीं है।
3. सभी पुस्तकें, कुर्सियां हैं।

निष्कर्ष:

- I. कोई पुस्तक, टेबल नहीं है।
- II. सभी पुस्तकें, मोबाइल हैं।

Ans A.

या तो निष्कर्ष I अनुसरण करता है या निष्कर्ष II अनुसरण करता है।

B. निष्कर्ष I और निष्कर्ष II दोनों अनुसरण करते हैं।

C. केवल निष्कर्ष I अनुसरण करता है।

D. केवल निष्कर्ष II अनुसरण करता है।

Question ID : 630680173381

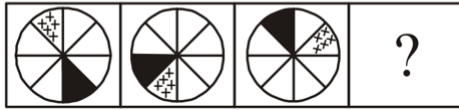
Status : Answered

Chosen Option : D



INDIA

Q.2 दिए गए विकल्पों में से उस आकृति का चयन करें जो निम्नलिखित श्रृंखला में प्रश्नवाचक चिह्न (?) को प्रतिस्थापित कर सकती है।



Ans

✗ A.



✗ B.



✓ C.



✗ D.



Question ID : 630680173438

Status : Answered

Chosen Option : C

Q.3 यदि नेहा की रैंक उस प्रीती से 27 आगे है, जो अंतिम से 58वीं रैंक पर है। यदि नेहा की रैंक शीर्ष से 15वीं है तो कक्षा में कितने विद्यार्थी हैं?

Ans ✗ A. 100

✓ B. 99

✗ C. 98

✗ D. 101

Question ID : 630680173374

Status : Answered

Chosen Option : A

Q.4 दिए गए विकल्पों में से उस संख्या का चयन करें जो निम्नलिखित श्रृंखला में प्रश्नवाचक चिह्न (?) को प्रतिस्थापित कर सकती है।

543, 555, 565, 573, 579, ?

- Ans
- A. 581
 - B. 589
 - C. 583
 - D. 585

Question ID : 630680173451

Status : Answered

Chosen Option : C

Q.5 दिए गए विकल्पों में से उस संख्या का चयन करें जो निम्नलिखित श्रृंखला में प्रश्नवाचक चिह्न (?) को प्रतिस्थापित कर सकती है।

750, 775, 875, 1100, 1500, ?

- Ans
- A. 2025
 - B. 2075
 - C. 2125
 - D. 2175

Question ID : 630680173453

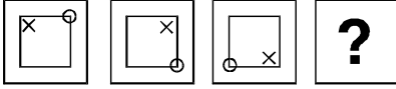
Status : Answered

Chosen Option : A



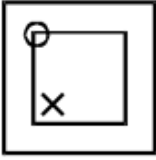
INDIA

Q.6 दिए गए विकल्पों में से उस आकृति का चयन करें जो निम्नलिखित श्रृंखला में प्रश्नवाचक चिह्न (?) को प्रतिस्थापित कर सकती है।

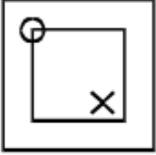


Ans

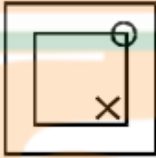
✓ A.



✗ B.



✗ C.



✗ D.



Question ID : 630680173434

Status : Answered

Chosen Option : A

Q.7 शब्द "JUNKYARD" (आगे और पीछे दोनों ओर से) में अक्षरों के ऐसे कितने युग्म हैं जिनके बीच उतने ही अक्षर हैं जितने अंग्रेजी वर्णानुक्रम में होते हैं?

Ans

✓ A. एक

✗ B. शून्य

✗ C. दो

✗ D. तीन

Question ID : 630680173393

Status : Answered

Chosen Option : B

Q.8 पांच व्यक्ति A, B, C, D और E समान सप्ताह के सोमवार से शुरू होकर शुक्रवार को समाप्त होने वाले पांच अलग-अलग दिनों में कार्य करते हैं। E, A के कार्य करने के दिन से ठीक पहले कार्य करता है। B अंतिम दिन कार्य करता है। B और E के बीच तीन व्यक्ति काम करते हैं। D, C के काम करने के बाद किसी एक दिन काम करता है। सोमवार को कार्य करने वाले व्यक्ति और D के बीच कितने व्यक्ति कार्य करते हैं?

- Ans
- A. 3
 - B. 0
 - C. 2
 - D. 1

Question ID : 630680173378
Status : Answered
Chosen Option : C

Q.9 निम्नलिखित अक्षर स्ट्रिंग का संदर्भ लें और प्रश्न का उत्तर दें।

(बाएं) I H O E Z F S D G K X T B Y W A U Q C M R (दाएं)

ऐसे कितने व्यंजन हैं, जिनमें से प्रत्येक के ठीक पहले एक स्वर है और ठीक बाद में भी एक स्वर है?

- Ans
- A. एक
 - B. चार
 - C. दो
 - D. तीन

Question ID : 630680173398
Status : Answered
Chosen Option : C

Q.10 उस विकल्प का चयन करें जो तीसरे शब्द से उसी प्रकार संबंधित है जैसे दूसरा शब्द पहले शब्द से संबंधित है।

HUNGRY : 253146 :: SAFETY : ?

- Ans
- A. 413256
 - B. 246135
 - C. 342651
 - D. 651423

Question ID : 630680173421
Status : Answered
Chosen Option : A

Q.11 यदि S, P की माँ है, P, Q की माँ है, Q, R की बहन है, R, T की पुत्री नहीं है, T, Q का पिता है, तो R, P से किस प्रकार संबंधित है?

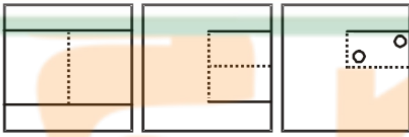
- Ans
- A. पिता
 - B. पुत्र
 - C. भाई
 - D. माँ

Question ID : 630680173417

Status : Answered

Chosen Option : D

Q.12 निम्न आकृतियों में कागज के एक टुकड़े को मोड़ने का क्रम और मोड़े गए कागज को काटने की विधि को दिखाया गया है। खोलने पर यह कागज कैसा दिखेगा?

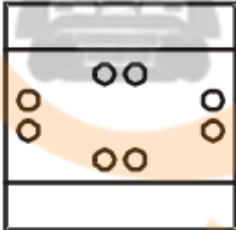


Ans

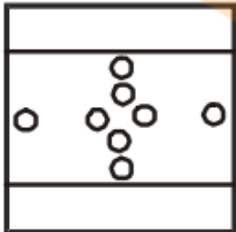
A.



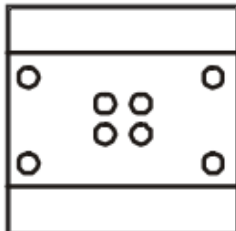
B.



C.



D.



Question ID : 630680173446

Status : Answered

Chosen Option : D

Q.13 दिए गए विकल्पों में से उस पद का चयन करें, जो निम्नलिखित श्रृंखला में प्रश्नवाचक चिन्ह (?) को प्रतिस्थापित कर सकता है।

20C15, 24E18, 30H24, 38L33, ?, 60W60

- Ans
- A. 48R45
 - B. 48Q45
 - C. 48Q46
 - D. 48R46

Question ID : 630680173389

Status : Answered

Chosen Option : B

Q.14 यदि '+' का अर्थ '÷' है, 'x' का अर्थ '!' है, '÷' है का अर्थ '+' है और '!' का अर्थ 'x' है, तो निम्नलिखित समीकरण में प्रश्नवाचक चिन्ह (?) के स्थान पर क्या आएगा?

$$21 + 7 - 4 \div 27 \times 29 = ?$$

- Ans
- A. 10
 - B. 20
 - C. 30
 - D. 40

Question ID : 630680173460

Status : Answered

Chosen Option : A

Q.15 निम्नलिखित जानकारी का ध्यानपूर्वक अध्ययन करें और उसके नीचे दिए गए प्रश्न का उत्तर दें:

अंकों को प्रतीकों के रूप में कूटबद्ध किया गया है जैसा कि नीचे दर्शाया गया है:

अंक	6	3	2	1	7	8	5	4	9	0
कूट	¥	α	£	#	\$	%	&	@	€	?

शर्तें:

- यदि पहला अंक विषम है और अंतिम अंक सम है, तो दोनों को β के रूप में कूटबद्ध किया जाएगा।
- यदि पहला और अंतिम अंक सम है, तो दोनों को पहले अंक के कूट द्वारा कूटबद्ध किया जाएगा।
- यदि पहला और अंतिम अंक विषम है, तो पहले और अंतिम अंकों के कूट को आपस में बदला जाएगा।
- यदि पहला अंक सम है और अंतिम अंक विषम है, तो दोनों को अंतिम अंक के कूट द्वारा कूटबद्ध किया जाएगा।

'65297' का कूट क्या होगा?

- Ans
- A. ¥££&¥
 - B. \$€&£\$
 - C. ¥&€£¥
 - D. \$&£€\$

Question ID : 630680173408

Status : Answered

Chosen Option : C

Q.16 रोहित पश्चिम दिशा में 23 km की दूरी तय करता है, वह दाएं मुड़ता है और 17 km की दूरी तय करता है, और वह फिर से दाएं मुड़ता है और 23 km की दूरी तय करता है। तो वह शुरुआती स्थान से कितनी दूर है?

- Ans
- A. 40 km
 - B. 23 km
 - C. 24 km
 - D. 17 km

Question ID : 630680173409

Status : Answered

Chosen Option : D

Q.17 छह बच्चे एक पंक्ति में खड़े हैं। A, C के ठीक दाएं पड़ोस में पड़ोस में, लेकिन B के ठीक बाएं पड़ोस में खड़ा है। E, C के ठीक बाएं पड़ोस में और उस D के ठीक दाएं पड़ोस में खड़ा है, जो कि F के ठीक दाएं खड़ा है। पंक्ति में दोनों सिरों पर कौन-से बच्चे खड़े हैं?

- Ans
- A. D, A
 - B. F, A
 - C. F, B
 - D. D, C

Question ID : 630680173370

Status : Answered

Chosen Option : C

Q.18 चार अक्षर-समूह दिए गए हैं, जिनमें से तीन किसी प्रकार से एकसमान हैं और एक असंगत है। उस असंगत अक्षर-समूह का चयन करें।

- Ans
- A. EHKM
 - B. QTWZ
 - C. JMPS
 - D. LORU

Question ID : 630680173424

Status : Answered

Chosen Option : A

Q.19 निम्नलिखित जानकारी को ध्यानपूर्वक पढ़ें और नीचे दिए गए प्रश्न के उत्तर दें:

यदि 'A + B' का अर्थ है कि 'A, B की बहन है'।

यदि 'A - B' का अर्थ है कि 'A, B का पुत्र है'।

यदि 'A × B' का अर्थ है कि 'A, B का पिता है'।

यदि 'A + B' का अर्थ है कि 'A, B की मां है'।

समीकरण 'E + G - H + K - L' में दिए गए संबंधों के आधार पर निम्नलिखित में से कौन-सा संबंध संभव नहीं है?

Ans

✓ A. H, E की बहन है।

✗ B. L, H का पति है।

✗ C. K, E का भाई है।

✗ D. E, L की पुत्री है।

Question ID : 630680173414

Status : Answered

Chosen Option : B

Q.20 निम्नलिखित समीकरण में प्रश्नवाचक चिह्न (?) के स्थान पर लगभग कितना मान आना चाहिए?

$$84.98 \times 11.01 - 999.99 \div 99.99 + 74.44 = ?$$

Ans

✗ A. 1200

✗ B. 500

✗ C. 800

✓ D. 1000

Question ID : 630680173458

Status : Answered

Chosen Option : C

Q.21 पांच मित्र A, B, C, D और E किसी कॉफी शॉप में एक सीधी बेंच पर बैठे हैं। A, D के बाएं से दूसरे स्थान पर बैठा है और B, C के दाएं से तीसरे स्थान पर बैठा है। E, D के ठीक दाएं पड़ोस में बैठा है। B ठीक D के पड़ोस में नहीं है। तो C के ठीक दाएं पड़ोस में कौन बैठा है?

Ans

✗ A. A

✗ B. E

✗ C. B

✓ D. D

Question ID : 630680173372

Status : Answered

Chosen Option : D

Q.22 चार शब्द-युग्म दिए गए हैं, जिनमें से तीन किसी प्रकार से एकसमान हैं और एक असंगत है। उस असंगत शब्द-युग्म का चयन करें।

- Ans
- A. उपेक्षा करना : ध्यान देना
 - B. उधार देना : उधार लेना
 - C. ठीक करना : मरम्मत करना
 - D. डूब जाना : तैरना

Question ID : 630680173428

Status : Answered

Chosen Option : C

Q.23 किसी निश्चित कूट भाषा में, "AT" को "21" लिखा जाता है और "COME" को "36" लिखा जाता है। तो उस भाषा में "KIND" को कैसे लिखा जाएगा?

- Ans
- A. 34
 - B. 42
 - C. 37
 - D. 38

Question ID : 630680173401


Status : Answered

Chosen Option : D



INDIA

Q.24 निम्न आकृतियों में कागज के एक टुकड़े को मोड़ने का क्रम और मोड़े गए कागज को काटने की विधि को दिखाया गया है। खोलने पर यह कागज कैसा दिखेगा?



Ans

A.



B.



C.



D.



Question ID : 630680173447

Status : Answered

Chosen Option : B

Q.25 R, P से अधिक अंक प्राप्त करता है लेकिन N से कम अंक प्राप्त करता है। T, R से कम अंक प्राप्त करता है, लेकिन P से अधिक अंक प्राप्त करता है। Q, M से अधिक अंक प्राप्त करता है, लेकिन N से कम अंक प्राप्त करता है। M, R से अधिक अंक प्राप्त करता है। यदि N, S से कम अंक प्राप्त करता है, तो M, N, P, Q, R, S और T में से किसे सबसे अधिक अंक मिले हैं?

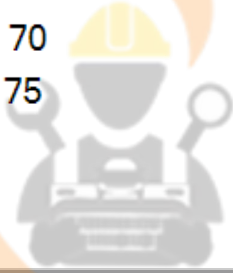
- Ans A. S
 B. N
 C. M
 D. Q

Question ID : 630680173385
Status : Answered
Chosen Option : A

Section : Quantitative Aptitude

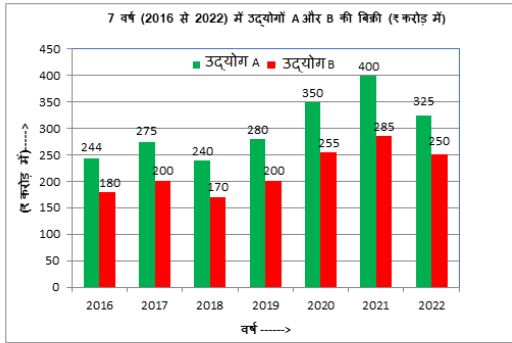
Q.1 एक व्यक्ति पहले 90 km की यात्रा 45 km/h की चाल से करता है, अगले 210 km की यात्रा 60 km/h की चाल से करता है और $4\frac{1}{2}$ घंटे के लिए x km/h की चाल से यात्रा करता है। यदि पूरी यात्रा में उसकी औसत चाल 61.5 km/h है, तो x का मान क्या है?

- Ans A. 65
 B. 64
 C. 70
 D. 75



Question ID : 630680173164
Status : Not Answered
Chosen Option : --

Q.2 निम्न बार ग्राफ का अध्ययन करें और प्रश्न का उत्तर दें।



अगले वर्ष में, मान लें कि B की बिक्री 280 करोड़ है और A की औसत बिक्री 315 करोड़ है, उस वर्ष में A और B की बिक्री का अनुपात ज्ञात कीजिए।

- Ans
- ✓ A. $\frac{29}{20}$
- ✗ B. $\frac{20}{29}$
- ✗ C. $\frac{9}{8}$
- ✗ D. $\frac{8}{9}$

Question ID : 630680173222

Status : Answered

Chosen Option : C

Q.3 X और Y अलग-अलग कार्य करते हुए एक कार्य को क्रमशः 24 दिनों और 32 दिनों में पूरा कर सकते हैं। यदि वे एकांतर रूप से एक-एक दिन के लिए कार्य करते हैं, और X काम की शुरुआत करता है, तो कार्य कितने दिनों में पूरा होगा?

- Ans
- ✓ A. $27\frac{1}{3}$
- ✗ B. $25\frac{2}{3}$
- ✗ C. $26\frac{2}{3}$
- ✗ D. $28\frac{1}{3}$

Question ID : 630680173215

Status : Not Answered

Chosen Option : --

Q.4 रीता ने एक कार्य पर काम करना शुरू किया और 15 दिनों में वह कार्य का $\frac{7}{10}$ भाग पूरा कर पाई। फिर उसने टीना की मदद ली और अगले 4 दिनों में कार्य पूरा करने में सफल रही। रीता और टीना एक साथ मिलकर पूरे कार्य को कितने दिनों में पूरा कर लेंगी?

- Ans
- A. $\frac{40}{3}$
 - B. $\frac{25}{4}$
 - C. $\frac{21}{2}$
 - D. $\frac{38}{3}$

Question ID : 630680173211

Status : Not Answered

Chosen Option : --

Q.5 A, B और C ने $\frac{1}{5} : \frac{2}{3} : \frac{5}{6}$ के अनुपात में अपने निवेश के साथ एक व्यवसाय शुरू किया। 4 महीने बाद, अनुज ने अपने हिस्से को दोगुना कर दिया। यदि वर्ष के अंत में लाभ ₹2,31,000 है, तो C का हिस्सा कितना है?

- Ans
- A. ₹1,02,000
 - B. ₹1,04,000
 - C. ₹1,05,000
 - D. ₹1,06,000

Question ID : 630680173190

Status : Not Answered

Chosen Option : --

Q.6 3 पेन और 2 पेंसिल का मूल्य ₹102 है। जब एक पेन का मूल्य ₹2.50 कम कर दिया जाता है और एक पेंसिल का मूल्य ₹1.50 बढ़ा दिया जाता है, तो 4 पेनों और 3 पेंसिलों का मूल्य ₹132 हो जाता है। 5 पेनों और 4 पेंसिलों का मूल्य क्या है?

- Ans
- A. ₹163
 - B. ₹173
 - C. ₹168
 - D. ₹171

Question ID : 630680173228

Status : Answered

Chosen Option : B

Q.7 यदि ₹17,500 की राशि, अर्द्धवार्षिक रूप से चक्रवृद्धित की जाने वाली $x\%$ की व्याज दर पर 1 वर्ष में ₹19,293.75 हो जाती है, तो x का मान ज्ञात करें।

- Ans
- A. 13
 - B. 12
 - C. 10
 - D. 11

Question ID : 630680173197
Status : Not Answered
Chosen Option : --

Q.8 यदि x एक समबाहु त्रिभुज की माध्यिका की लंबाई है, तो इसका क्षेत्रफल ज्ञात कीजिए।

- Ans
- A. $\frac{\sqrt{3}}{2} x^2$
 - B. x^2
 - C. $\frac{\sqrt{3}x^2}{3}$
 - D. $\frac{x^2}{2}$

Question ID : 630680173239
Status : Answered
Chosen Option : A

Q.9 केतन एक दूरी को 3 बराबर भागों में विभाजित करता है और तीनों भागों की यात्रा क्रमशः 50 km/h, 40 km/h और 30 km/h की चाल से करता है। पूरी यात्रा के लिए उसकी औसत चाल (km/h में) क्या है?

- Ans
- A. 37.5
 - B. 60
 - C. 40
 - D. 38.3

Question ID : 630680173200
Status : Answered
Chosen Option : C

Q.10 एक फुटकर विक्रेता ने अपनी वस्तु का मूल्य इस प्रकार अंकित किया कि उसमें 21% का लाभ शामिल हो। यदि वह अंकित मूल्य पर 12% की छूट देता है, तो उस वस्तु पर उसका वास्तविक लाभ कितना था?

- Ans
- A. 8.18%
 - B. 7.28%
 - C. 5.98%
 - D. 6.48%

Question ID : 630680173177
Status : Answered
Chosen Option : D

Q.11 दो संख्याओं x और y का ल.स.प. (LCM) उनके म.स.प. (HCF) का 21 गुना है और उनके HCF और LCM का योग 176 है। यदि $x - y$ का मान 32 है, तो $x^2 - y^2$ का मान क्या होगा?

- Ans
- A. 2056
 - B. 2065
 - C. 2650
 - D. 2560

Question ID : 630680173158
Status : Not Answered
Chosen Option : --

Q.12 एक ऐसे त्रिभुज ABC के परिकेन्द्र के निर्देशांक ज्ञात कीजिए जिसके शीर्ष A = (3, 2), B = (1, 4) और C = (5, 4) हैं।

- Ans
- A. (-3, -4)
 - B. (-3, 4)
 - C. (3, 4)
 - D. (3, -4)

Question ID : 630680173247
Status : Answered
Chosen Option : B

Q.13 यदि $x + y = 2z$ है, तो $\frac{x}{x-z} + \frac{z}{y-z} = ?$

- Ans
- A. -1
 - B. 2
 - C. 1
 - D. -2

Question ID : 630680173225
Status : Not Answered
Chosen Option : --

Q.14 ₹4,200 की राशि पर 15% प्रति वर्ष की दर से 4 वर्षों के लिए अर्जित साधारण ब्याज, ₹3,000 पर 20% प्रतिवर्ष की दर से 4 वर्षों के लिए अर्जित साधारण ब्याज से कितना अधिक है?

- Ans
- A. ₹130
 - B. ₹100
 - C. ₹120
 - D. ₹110

Question ID : 630680173195
Status : Answered
Chosen Option : C

Q.15 $\sqrt{\sqrt{2025} - \sqrt{400}}$ का मान ज्ञात करें।

- Ans
- A. 6
 - B. 8
 - C. 5
 - D. 7

Question ID : 630680173149
Status : Answered
Chosen Option : C

Q.16 यदि $l + m + n = 2772$, $l : (m + n) = 5 : 13$ और $n : (l + m) = 4 : 7$ है, तो m का मान ज्ञात करें?

- Ans
- A. 990
 - B. 991
 - C. 995
 - D. 994

Question ID : 630680173184
Status : Not Answered
Chosen Option : --

Q.17 एक पुस्तक का अंकित मूल्य ₹1100 है। एक आदमी ने इसे दो क्रमिक छूट, जिसमें पहली छूट 12.5% है, पाने के बाद ₹866.25 खरीदा। दूसरी छूट दर क्या थी?

- Ans
- A. 10.50%
 - B. 10.10%
 - C. 10.25%
 - D. 10.00%

Question ID : 630680173182
Status : Answered
Chosen Option : D

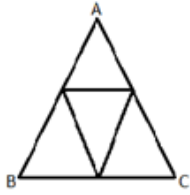
Q.18 ₹12,500 कीमत की एक निर्मित वस्तु को 10% लाभ पर बेचा गया। आपूर्तिकर्ता ने उसे 5.5% लाभ पर दुकानदार को बेच दिया। दुकानदार ने इसे अपने क्रय मूल्य से ₹2,393.75 अधिक अंकित किया और ग्राहक को 10% की छूट दी। दुकानदार द्वारा अर्जित लाभ ज्ञात कीजिए।

- Ans
- A. 653.75
 - B. 693.75
 - C. 703.75
 - D. 600.75

Question ID : 630680173172
Status : Not Answered
Chosen Option : --

Q.19 नीचे दिए गए चित्र में यदि प्रत्येक छोटे त्रिभुज का आधार

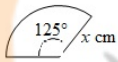
5.2 inch और ऊंचाई 4.5 inch है, तो ΔABC का क्षेत्रफल ज्ञात कीजिए।



- Ans
- A. 24.4 $inch^2$
 - B. 48.6 $inch^2$
 - C. 23.4 $inch^2$
 - D. 46.8 $inch^2$

Question ID : 630680173234
Status : Not Answered
Chosen Option : --

Q.20 नीचे दिखाए गए त्रिज्यखंड की चाप की लंबाई 20 cm और कोण 125° है। x की लंबाई की गणना करें।



- Ans
- A. 8.16 cm
 - B. 9.16 cm
 - C. 10.126 cm
 - D. 7.158 cm

Question ID : 630680173240
Status : Not Answered
Chosen Option : --

Q.21 फ्रिज की कीमत हर वर्ष 12.5% बढ़ जाती है। यदि क्रय मूल्य ₹22,781.25 है, तो 2 वर्ष पहले कीमत (₹ में) क्या थी?

- Ans
- A. 17,500
 - B. 18,000
 - C. 18,500
 - D. 19,500

Question ID : 630680173170
Status : Answered
Chosen Option : B

Q.22 निम्न तालिका में वर्ष 2000-01 के लिए केल्विन ट्रेडर्स की दो शाखाओं द्वारा खरीदे और बेचे गए विभिन्न ब्रांडों के टेलीविजन सेटों की संख्या दर्शाई गई है। चेन्नई में ब्रांड ओनिडा के स्टॉक का मुंबई में ब्रांड बीपीएल (BPL) के स्टॉक से अनुपात क्या है? [स्टॉक = बिक्री - खरीद]

टीवी ब्रांड	खरीद		बिक्री	
	चेन्नई	मुंबई	चेन्नई	मुंबई
सोनी	450	1800	372	1240
ओनिडा	700	600	540	480
बीपीएल	1000	300	880	250

- Ans
- A. 14 : 9
 - B. 11 : 6
 - C. 12 : 7
 - D. 16 : 5


Question ID : 630680173216

Status : Answered

Chosen Option : D

Q.23 यदि $x = 32.63^2 - 627.7169$ और $y = \frac{0.48}{0.0024}$ है, तो $2x - 3y =$ का मान ज्ञात करें?

- Ans
- A. 200
 - B. 247
 - C. 473
 - D. 274



INDIA

Question ID : 630680173152

Status : Not Answered

Chosen Option : --

Q.24 एक व्यक्ति एक निश्चित दूरी का एक-तिहाई भाग 75 km/h की चाल से तय करता है और शेष का एक-तिहाई भाग 45 km/h की चाल से तय करता है और शेष दूरी को 55 km/h की चाल से तय करता है। तो पूरी यात्रा के दौरान उसकी औसत चाल कितनी है?

- Ans
- A. 56.82 kmph
 - B. 55.82 kmph
 - C. 57.82 kmph
 - D. 54.82 kmph

Question ID : 630680173162

Status : Answered

Chosen Option : C

Q.25 एक रेलगाड़ी 'P' प्लेटफॉर्म 'X' पर खड़े एक व्यक्ति को पार करने में 15 सेकंड लेती है और उस प्लेटफॉर्म 'X' को पार करने में 22 सेकंड लेती है। एक अन्य रेलगाड़ी 'Q' उसी प्लेटफॉर्म 'X' पर खड़े एक व्यक्ति को पार करने में 20 सेकंड का समय लेती है। यदि रेलगाड़ी 'P' और 'Q' की चाल क्रमशः 72 km/h और 36 km/h है, तो रेलगाड़ी 'P', रेलगाड़ी 'Q' और प्लेटफॉर्म 'X' की लंबाई का योग कितना है?

Ans A. 560 m

B. 640 m

C. 740 m

D. 680 m

Question ID : 630680173207

Status : Not Answered

Chosen Option : --

